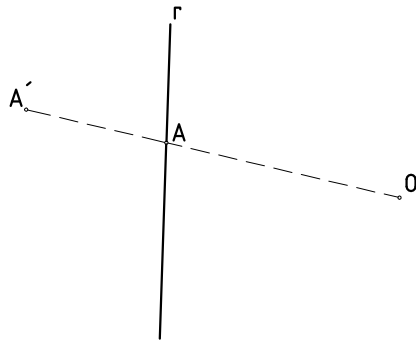
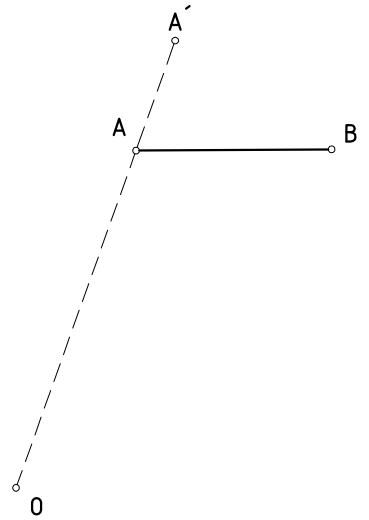
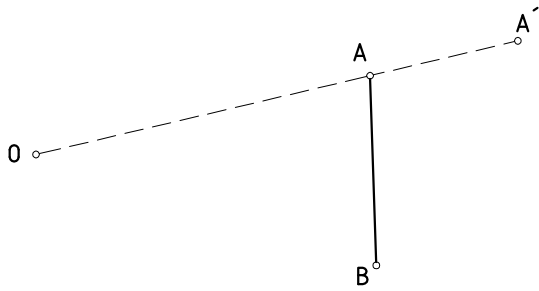


1.-HALLAR LA FIGURA INVERSA DE LA RECTA  $r$  SIENDO  $A'$  EL INVERSO DEL PUNTO  $A$ .



2.-DIBUJAR EL INVERSO DEL SEGMENTO  $AB$  SIENDO  $A'$  EL INVERSO DEL PUNTO  $A$ .



3.-DIBUJAR EL INVERSO DEL SEGMENTO  $AB$  SIENDO  $D'$  EL INVERSO DEL PUNTO  $D$ .

