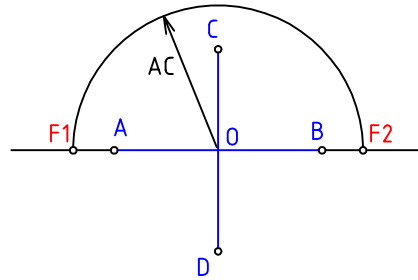
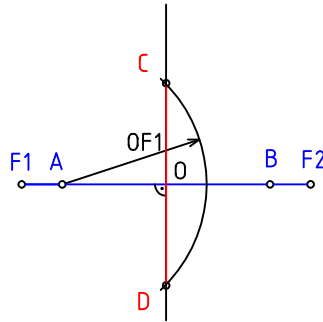


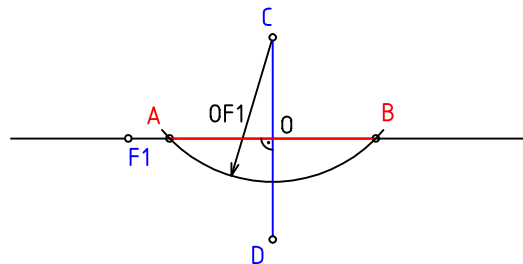
1.-DADOS EL EJE REAL Y EL IMAGINARIO DE UNA HIPERBOLA HALLAR LA POSICION DE LOS FOCOS.



2.-DETERMINAR EL EJE IMAGINARIO DE UNA HIPERBOLA CONOCIDOS EL EJE REAL Y LOS FOCOS.



3.-HALLAR EL EJE REAL DE UNA HIPERBOLA CONOCIDOS EL EJE IMAGINARIO Y UN FOCO.



4.-DIBUJAR LOS EJES PRINCIPALES DE UNA HIPERBOLA DADOS LOS FOCOS Y UN PUNTO DE LA MISMA

