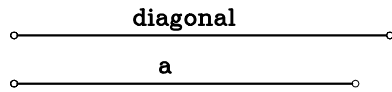
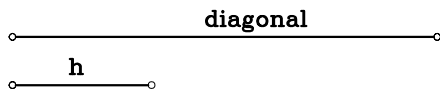


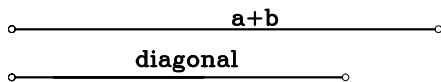
1.-DIBUJAR UN RECTANGULO CONOCIDA SU DIAGONAL Y UN LADO.



2.-DIBUJAR UN RECTANGULO CONOCIDA SU DIAGONAL Y LA DISTANCIA h DESDE UN VERTICE HASTA LA LA DIAGONAL OPUESTA.



3.-DIBUJAR UN RECTANGULO CONOCIDA SU DIAGONAL Y LA SUMA DE LOS LADOS.



4.-DIBUJAR UN RECTANGULO CONOCIDA SU DIAGONAL Y LA RESTA DE LOS LADOS.

