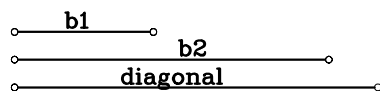
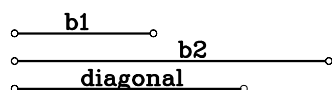


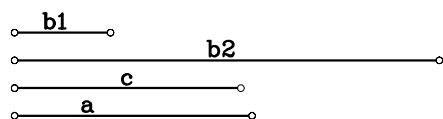
1.-DIBUJAR UN TRAPECIO RECTANGULO A PARTIR DE LAS BASES Y LA DIAGONAL MAYOR.



2.-DIBUJAR UN TRAPECIO RECTANGULO A PARTIR DE LAS BASES Y LA DIAGONAL MENOR.



3.-DIBUJAR UN TRAPECIO A PARTIR DE DOS LADOS Y DE LAS BASES.



4.-DIBUJAR UN TRAPECIO A PARTIR DE LAS DOS DIAGONALES Y LAS BASES.

