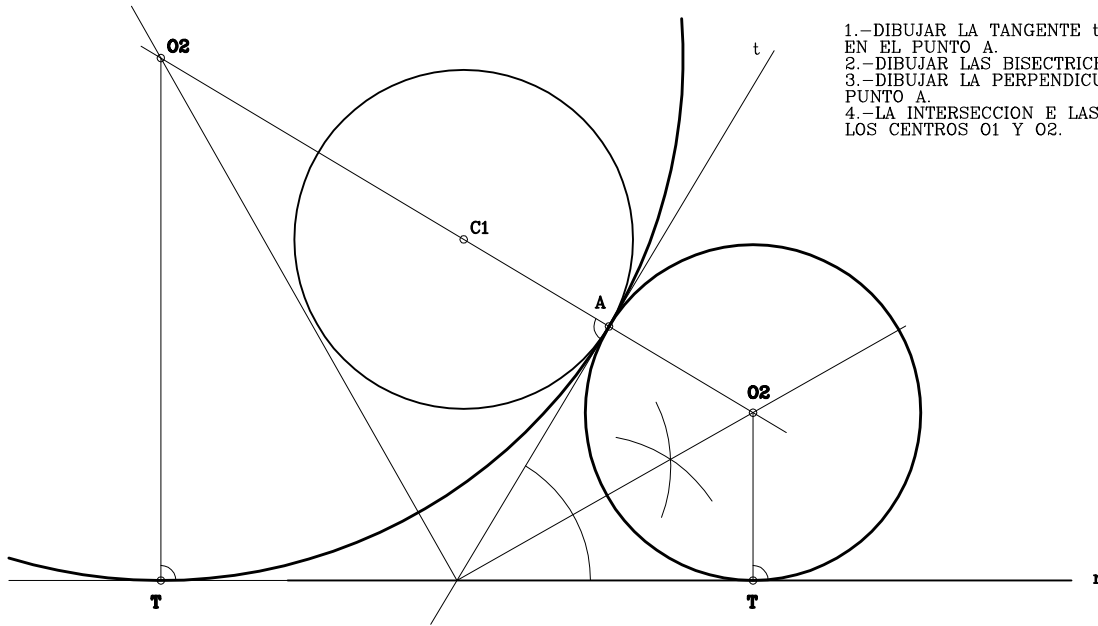
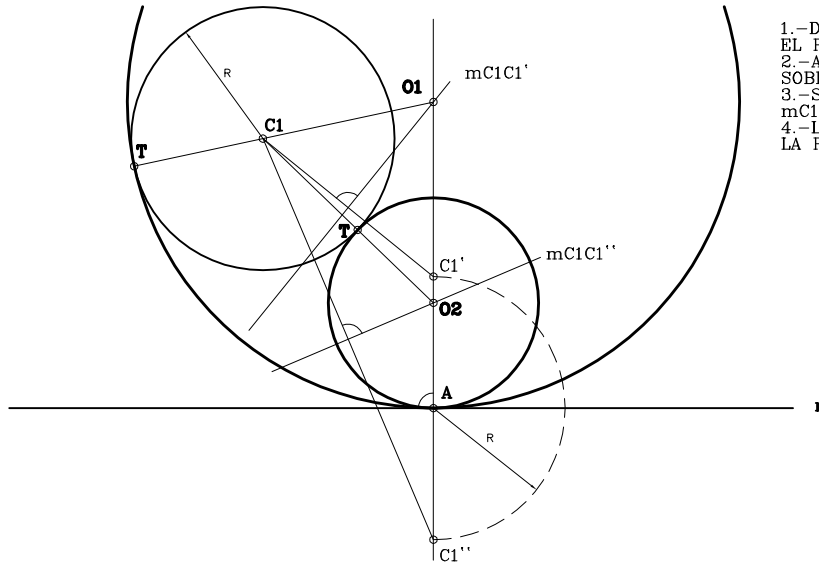


4.-DIBUJAR LAS CIRCUNFERENCIAS QUE SON TANGENTES A LA RECTA r Y A LA CIRCUNFERENCIA C_1 EN EL PUNTO A .



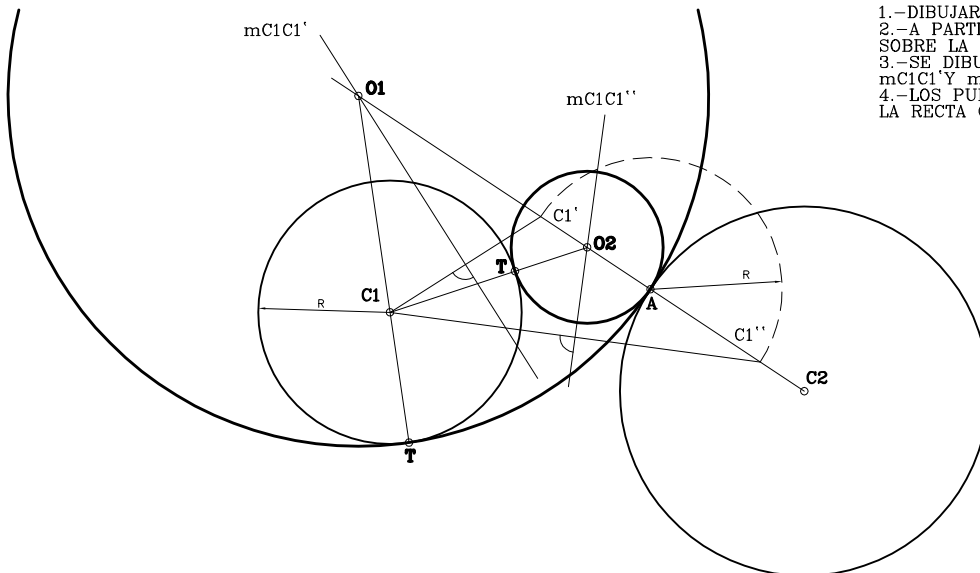
- 1.-DIBUJAR LA TANGENTE t A LA CIRCUNFERENCIA EN EL PUNTO A .
- 2.-DIBUJAR LAS BISECTRICES DE LAS RECTAS r Y t .
- 3.-DIBUJAR LA PERPENDICULAR A LA RECTA POR EL PUNTO A .
- 4.-LA INTERSECCION E LAS RECTAS ANTERIORES SON LOS CENTROS O_1 Y O_2 .

5.-DIBUJAR LAS CIRCUNFERENCIAS QUE SON TANGENTES A LA CIRCUNFERENCIA C_1 Y A LA RECTA r EN EL PUNTO A .



- 1.-DIBUJAR LA PERPENDICULAR A LA RECTA r EN EL PUNTO A .
- 2.-A PARTIR DEL PUNTO A SE LLEVA EL RADIO R SOBRE LA PERPENDICULAR OBTENIENDOSE C_1' Y C_1'' .
- 3.-SE DIBUJAN LAS MEDIATRICES DE LOS SEGMENTOS mC_1C_1' Y mC_1C_1'' .
- 4.-LOS PUNTOS DE CORTE DE LAS MEDIATRICES CON LA PERPENDICULAR SON LOS CENTROS O_1 Y O_2 .

6.-DIBUJAR LAS CIRCUNFERENCIAS QUE SON TANGENTES A LAS CIRCUNFERENCIAS C_1 Y C_2 EN EL PUNTO A .



- 1.-DIBUJAR LA RECTA C_1-A .
- 2.-A PARTIR DEL PUNTO A SE LLEVA EL RADIO R SOBRE LA PERPENDICULAR OBTENIENDOSE C_1' Y C_1'' .
- 3.-SE DIBUJAN LAS MEDIATRICES DE LOS SEGMENTOS mC_1C_1' Y mC_1C_1'' .
- 4.-LOS PUNTOS DE CORTE DE LAS MEDIATRICES CON LA RECTA C_1-A SON LOS CENTROS O_1 Y O_2 .